

Career
বাংলা.in



Previous Year Questions

By Career Bangla

WBCS 2010

1. Choose the right alternative from the options given below :
Agourmet loves_____.
(A) Fashion (B) Action (C) Food (C) Films

Direction For Question Nos. 2 And 3

Fill In The Blanks In The Sentences Choosing The Most Meaningful Alternative From The Ones Supplied:

2. The _____ of the place attracts many ascetics.
(A) Quietness (B) Silence (C) Quietude (D) Soundlessness
3. The street is not properly_____.
(A) Illumed (B) Illumind (C) Illuminated (D) Enlightened
4. Choose the right alternative from the options given :
A man with an irrationally fixed idea is called_____.
(A) An eccentric (B) A maniac (C) A manikin (D) A phobic

Direction For Question Nos. 5 To 7

Fill In The Blank With The Correct Alternative From The Ones Supplied:

5. A man in the charge of farming and nurturing animals is called_____.
(A) A plowman (B) A farmer (C) A firm-manager (D) A husband's man
6. Lachrymose nature means_____.
(A) Lethargic (B) Prone to anger (C) Prone to tear (D) Energetic
7. The man who follows his nose actually follows his_____.
(A) Passion (B) Rationality (C) Instinct (D) Memory
8. Choose the correct alternative from the ones supplied :
Detect where the adjective "public" is used in a derogatory sense :
(A) Public house (B) Public Woman (C) Public servant (D) Public speech
9. Choose the right word from the alternative to complete the sentence idiomatically:
A clever man sweeps his family scandals under the_____.
(A) Ground (B) Floor (C) Capet (D) Grave-stone
10. Fill in the blank with correct word to make the sentence meaningful :
It is usual nowadays to blow one's own _____ to impress others.
(A) Horn (B) Trumpet (C) Drum (D) Band

Direction For Question Nos. 11 And 12

Select The Pair In The Following Options Which Is Set In Opposition:

11. (A) Doggish — Canine (B) Manly — Virile (C) Divine — Infernal (D) Earthly — Terrestrial
12. (A) Pedant — Pedagogic (B) Humid — Arid (C) Erroneous— Faulty (D) Horrible — Horrendous

Direction For Questions Nos. 13 And 14

Choose The Word From The List Which Is Nearest In Meaning To The Underlined Part Of The Sentence:

13. Hikes in oil prices may mar the future of the trade world.
-

- (A) Harness (B) Help (C) Better (D) Worsen
14. The separation from a lover fills one's mind with blues.
(A) sadness (B) Romanticism (C) Nostalgia (D) Colourfulness
15. Choose the correct alternative from the options to fill in the blanks:
"In the time of danger, we should try to take the bull by the horns" means "In the time of danger we should try to _____"
(A) Surmount it (B) Face the situation boldly (C) Overcome it (D) Control ourselves
16. 'We are superior to everybody else' is the apt utterance of a / an
(A) egoist (B) pacifist (C) anarchist (D) chauvinist
17. "To give a dog a bad name" means
(A) it is very difficult to destroy the reputation of a loyal person.
(B) it is very difficult it lose a bad reputation.
(C) it is very difficult to earn a good reputation in a bad company.
(D) it is very difficult to both be loyal and do something that jeopardizes self-reputation.
18. The prospect of her marriage is remote. The opposite of 'remote', in this sentence, would be
(A) high (B) less (C) far (D) near
19. Fill in the blank with the right word : A lame duck organization is one which needs _____.
(A) authority (B) staff (C) power (D) support
20. A manicurist takes care of
(A) foot (B) ear (C) nails (D) mind
21. A duck is a bird, but to duck is
(A) to feel shy (B) to refuse (C) to abandon (D) to avoid
22. Insert the appropriate phrasal verb in the blank below and make the sentence meaningful : This evidence _____ with what one already knows.
(A) ties in (B) sets in (C) gives in (D) goes down
23. The specialist who handles problems in the human body related to bones is a/an
(A) Orthodontist (B) Osteopath (C) podiatrist (D) Oncologist
24. Baptism of fire means
(A) a fire fighting act (B) a bad beginning in the first job (C) a difficult introduction to an experience
(D) a religious experience
25. A pugilist is a
(A) boxer (B) swimmer (C) athlete (D) weight-lifter
26. নীচের সারিতে m-এর সংখ্যা হবে
A, BBB, CCCCC, DDDDDDD...
(A) 15 (B) 17 (C) 25 (D) 27
27. মনে করুন $x*y = x+y$, যদি $x < y$ হয় $=x - y + 1$, যদি $x = y$, যদি $x > y$ হয় $= 2x - 1$, যদি $x = y$ হয় তাহলে
 $5*(6*2)+(5*6)*2 = ?$
-

(A) 24 (B) 23 (C) 20 (D) 16

28. কোন বস্তু থেকে তাপ বিকিরণের হার সর্বোচ্চ হয় যদি তার তলটি হয়

(A) সাদা (B) মসৃণ (C) মসৃণ কিন্তু কালো (D) অমসৃণ কিন্তু কালো

29. হিমোফিলিয়ার জন্য দায়ী জিনটি হল...

(A) X লিঙ্কড প্রচ্ছন্ন (B) X লিঙ্কড প্রকট (C) X লিঙ্কড (D) অটোজোমে অবস্থিত

30. উচ্চস্তপায়ীর জরায়ু ও যোনি নালীর সংযোগ স্থলের সরু অংশটি যে নামে পরিচিত

(A) ক্রিটোরিজ (B) ইউরেথ্রা (C) ডিম্বনালী (D) সারভিক্স

31. নীচের কোন বিষাক্ত রাসায়নিক মৌলটি জাপানে মিনামাটা রোগের কারণ হয়েছিল

(A) ইউরেনিয়াম (B) পারদ (C) ক্যাডমিয়াম (D) আর্সেনিক

32. একটি ব্রায়োফাইট / মস -এর দেহজ অংশটি যে গঠনকে উপস্থাপিত করে, তা হল

(A) রেণুধর উদ্ভিদ (B) লিঙ্গধর উদ্ভিদ (C) রেণুধর বা লিঙ্গধর উদ্ভিদ (D) রেণুধর এবং লিঙ্গধর উদ্ভিদ

33. নিম্নোক্ত দিল্লী সুলতানদের মধ্যে কে দ্বিতীয় আলেকজান্ডার উপাধিতে ভূষিত হতে এবং বিশ্ববিজয় করতে চেয়েছিলেন?

(A) আলাউদ্দিন খিলজী (B) গিয়াসউদ্দিন বলবন (C) মহম্মদ বিন-তুঘলক (D) ঐদের কেউই নন

34. বিদিশা তার বাবার কাছ থেকে প্রতিমাসের 30 তারিখে 50 টাকা এবং 31 তারিখে 100 টাকা পায়। তাহলে 2008 সালে সে তার বাবার কাছ থেকে মোট টাকা পেয়েছে?

(A) 900 টাকা (B) 950 টাকা (C) 1250 টাকা (D) 1300 টাকা

35. একটি লিপইয়ারে সপ্তাহের অন্য সব কটি দিন যখন 52 বার করে আসবে, তখন নিচের কোন দুটি দিন 53 বার করে আসতে পারে?

(A) রবিবার ও শুক্রবার (B) বুধবার ও বৃহস্পতিবার (C) সোমবার ও বুধবার (D) মঙ্গলবার ও শনিবার

36. উৎসেচক একটি জীব রাসায়নিক বিক্রিয়াকে যেভাবে ত্বরান্বিত করে তা হল?

(A) বিক্রিয়ার অ্যাকটিভেশন এনার্জিকে বৃদ্ধি করে

(B) বিক্রিয়ার তাপমাত্রাকে হ্রাস করে

(C) বিক্রিয়ার তাপমাত্রাকে বৃদ্ধি করে

(D) বিক্রিয়ার অ্যাকটিভেশন এনার্জিকে হ্রাস করে

37. হৃদপেশী ক্লান্ত (Fatigue) হয় না কারণ...

(A) কোষসমূহ ইন্টারক্যাললেটেড চাকতি দ্বারা যুক্ত

(B) বিপুল পরিমাণে মাইটোকন্ড্রিয়ার উপস্থিতি

(C) অধিক পরিমাণ অ্যাকটিনের উপস্থিতি

(D) অধিক পরিমাণে মায়োসিনের উপস্থিতি

38. বিশ্ব জুড়ে যোগাযোগের জন্য নুন্যতম সংখ্যক কৃত্রিম উপগ্রহ প্রয়োজন

- (A) একটি (B) দুটি (C) তিনটি (D) চারটি
39. সালোক সংশ্লেষে আলোক দশা সম্পন্ন হয়
(A) সাইটোসল-এ (B) ক্লোরোপ্লাস্টের থানায় (C) ক্লোরোপ্লাস্টের স্ট্রোমায় (D) রাইবোজোম-এ
40. পশ্চিমবঙ্গের চিত্তরঞ্জন কোন শিল্পের জন্য বিখ্যাত
(A) সার (B) লোকোমোটিভ (C) লোহা ও ইস্পাত (D) উপরের কোনটিই নয়
41. হ্যাভারশিয়ান তন্ত্র যার অংশবিশেষ
(A) বুক (B) অস্থি (C) হৃদপিণ্ড (D) মস্তিষ্ক
42. নীচের কোনটি সবচেয়ে উপযুক্ত নিউক্লীয় জ্বালানি
(A) ইউরেনিয়াম 238 (B) প্লুটোনিয়াম 239 (C) নেপচুনিয়াম 239 (D) থেরিয়াম 236
43. নীচের কোনটি ভৌত পরিবর্তন নয়
(A) দুধ শুকিয়ে গুঁড়ো দুধ তৈরী হওয়া (B) আয়োডিনের উর্ধ্বপাতন (C) চায়ে চিনি মেশানো (D) মোমবাতির দহন
44. লাটুরের ভূমিকম্প হয়েছিল নিম্নোক্ত কারণে
(A) অতিরিক্ত জলরাশির চাপে (B) প্লেটের সঞ্চালনে (C) জলধারের নীচের চ্যুতির জন্য (D) ভঙ্গিল পর্বত সৃষ্টি থেকে
45. পালিটিন ক্রমোজোম যে কোষে পাওয়া যায়
(A) পতঙ্গ লার্ভার লালাগ্রন্থি থেকে (B) মানুষের যকৃত কোষ (C) পতঙ্গের স্নায়ু কোষ (D) উপরের কোনটিই নয়
46. পাতায় ঢোকানো পত্ররন্ধ্রের উপস্থিতি যে চারিত্রিক বৈশিষ্ট্য দেখায়, তা
(A) হাইড্রোফাইট (B) জেরোফাইট (C) হ্যালো ফাইট (D) মোসোফাইট
47. কোন পঞ্চবার্ষিকী পরিকল্পনাটিকে মেয়াদ পূর্তির এক বছর আগে স্থগিত করে দেওয়া হয়েছিল
(A) তৃতীয় পরিকল্পনা (B) চতুর্থ পরিকল্পনা (C) পঞ্চম পরিকল্পনা (D) ষষ্ঠ পরিকল্পনা
48. ভারত-ইতিহাসের কোন যুগের লোক ছিলেন আর্ষভট্ট ও বরাহমিহির (যথাক্রমে বিজ্ঞানী ও গণিতবিদ)
(A) মৌর্য যুগ (B) গুপ্ত যুগ (C) পাল যুগ (D) দিল্লি সুলতানি
49. সুলতানি আমলে ইকতা বলতে বুঝাত
(A) এক প্রকার অভিবাদন (B) একজন গুরুত্বপূর্ণ কর্মচারী (C) কোন গ্রাম বা বিশেষ অঞ্চলের ভূমি রাজস্ব অনুদান
(D) উপরের কোনটিই নয়
50. নীচের উল্লিখিত কোম্পানিগুলির মধ্যে কোনটি সম্প্রতি সঞ্চিত ইউরেনিয়াম আহরণের জন্য ভারতীয় কর্পোরেশনের সঙ্গে চুক্তিবদ্ধ হয়েছে
(A) ও এন জি সি (B) গেইল (C) রিলায়েন্স পেট্রোলিয়াম (D) এসার অয়েল
51. আয়নার প্রলেপ দিতে কোন কার্বোহাইড্রেট বাণিজ্যিকভাবে ব্যবহৃত হয় ?
(A) সুলফোন (B) ফ্লুকটোজ (C) সেলুলোজ (D) গ্লুকোজ

52. মূল্যযুক্ত কর আরোপিত হয় কোনও দ্রব্যের
(A) সর্বশেষ ভোক্তার উপর
(B) উৎপাদনের সর্বশেষ স্তরে মোট যে মূল্য যুক্ত হয় তার উপর
(C) উৎপাদনের প্রতিটি স্তরে মোট যে মূল্য যুক্ত হয় তার উপর
(D) উৎপাদকের উৎপাদন ব্যয়ের অঙ্কে সর্বমোট যে মূল্য যুক্ত হয় তার উপর
53. কোন ধাতুর আয়ন সালোক-সংশ্লেষে ইলেকট্রন পরিবহন করে ?
(A) সোডিয়াম (B) পটাসিয়াম (C) কোবাল্ট (D) লৌহ
54. 1, 2, 6, 15, 31..... এই সংখ্যা সারিটির পরবর্তী সংখ্যাটি
(A) 47 (B) 50 (C) 56 (D) 63
55. একটি ক্লাসের 27 জন ছাত্রছাত্রীর মধ্যে 69টি বিস্কুট এমনভাবে ভাগ করে দেওয়া হল যেন প্রত্যেক ছাত্র 2টি এবং প্রত্যেক ছাত্রী 3টি বিস্কুট পায়। ঐ ক্লাসে ছাত্রীর সংখ্যা
(A) 23 (B) 19 (C) 15 (D) 12
56. মাটির তলায় জলের গভীরতা যত হলে টিউব ওয়েল কাজ করবে না তা হল
(A) 20 ফুট (B) 25 ফুট (C) 28 ফুট (D) 38 ফুট
57. DNA পর্যায়ক্রম' প্রক্রিয়া আবিষ্কার করেন
(A) এইচ. জি. খোরানা (B) ওয়াটসন এবং ক্রিক (C) ফ্রেডরিক সেঞ্জার (D) এ.ম.সিউদার্ন
58. 2001 সেনসাস অনুযায়ী পশ্চিমবঙ্গে জেলাগুলির মধ্যে সর্বনিম্ন লিঙ্গানুপাত পাওয়া যায়
(A) কলকাতায় (B) পুরুলিয়ায় (C) হুগলিতে (D) উত্তর দিনাজপুরে
59. ক্ল্যাডোগ্রাম যে প্রকল্পটিকে ব্যাখ্যা করে
(A) বিবর্তন সম্পর্ক (B) ফেনাটিক সম্পর্ক (C) জিনাগত সম্পর্ক (D) ট্যাঙ্কনমিজিনিত সম্পর্ক
60. তথ্য অবগত হওয়ার অধিকার সংক্রান্ত আইনটি নিম্নোক্ত কোন রাজ্যটি ছাড়া বাকি সর্বত্র প্রযোজ্য
(A) জম্মু ও কাশ্মির (B) মিজোরাম (C) মণিপুর (D) নাগাল্যান্ড
61. পশ্চিমবঙ্গে বিশেষ অর্থনৈতিক অঞ্চলের পরিকল্পনা করা হয় নিম্নোক্ত অঞ্চলে
(A) মেদিনীপুর অঞ্চলে (B) ঝাড়গ্রাম অঞ্চলে (C) নন্দীগ্রাম অঞ্চলে (D) হলদিয়ায়
62. নীচের উক্তিগুলি বিবেচনা করুন :
1. নিউটনের প্রথম গতিসূত্র থেকে বলের সংজ্ঞা পাওয়া যায়
2. নিউটনের দ্বিতীয় গতিসূত্র থেকে বলের সংজ্ঞা পাওয়া যায়
3. বাড়িতে বৈদ্যুতিক সরঞ্জামগুলি শ্রেণী সমবায়ে যুক্ত থেকে
4. টেলিভিশনের পিকচার টিউব মূলত একটি ক্যাথোড রশ্মি নল
(A) কেবল 1 সঠিক (B) কেবল 2 সঠিক (C) কেবল 2 এবং 4 সঠিক (D) কেবল 1 এবং 4 সঠিক

(A) পরিষেবা কর (B) কোম্পানি আয়কর (C) বৃত্তি কর (D) কৃষি আয়কর

63. কোন বছর ইংরেজদের সঙ্গে রণজিৎ সিংহের অমৃতসরের সন্ধি স্বাক্ষরিত হয়েছিল ?

(A) 1807 খ্রীঃ (B) 1809 খ্রীঃ (C) 1811 খ্রীঃ (D) 1813 খ্রীঃ

64. ফতেপুর সিক্রিতে ইবাদত খানা কী ছিল ?

(A) বসবাসের জন্য সুরম্য অট্টালিকা (B) সকল ধর্ম সম্বন্ধে আলোচনার জন্য গৃহ (C) ভোজনালয় (D) উপরের কোনোটিই নয়

65. কোন বছর রেগুলেশন XVII বিধিবদ্ধ করে সতীদাহ নিষিদ্ধ ঘোষিত হয়েছিল ?

(A) 1829 খ্রীঃ (B) 1830 খ্রীঃ (C) 1835 খ্রীঃ (D) উপরের কোনোটিই নয়

66. হরপ্পা সভ্যতার লোকেরা কোন দেশের সঙ্গে বাণিজ্য করত ?

(A) চীন (B) ইরান (C) রাশিয়া (D) সুমের

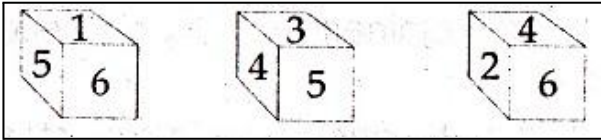
67. আলিগড়ের মুসলিম অ্যাংলো ওরিয়েন্টাল কলেজ স্থাপিত হয়েছিল

(A) 1868 খ্রীঃ (B) 1875 খ্রীঃ (C) 1883 খ্রীঃ (D) 1906 খ্রীঃ

68. ভারতীয় দর্শনের প্রাচীনতম মতবাদী গোষ্ঠী (স্কুল) হল

(A) যোগ (B) সাংখ্য (C) বৈশেষিক (D) কর্মমিমাংসা

69. একটি লুডোর ছক্কার ছটি পিঠে 1, 2, 3, 4, 5, ও 6 এই সংখ্যাগুলির এক একটি লেখা আছে। ছক্কাটির তিনটি ভিন্ন ভিন্ন অবস্থান এই রকম



তাহলে 2 -এর উল্টোদিকের সংখ্যাটি হল ?

(A) 1 (B) 3 (C) 5 (D) 6

70. যদি গতকালের আগের দিন সোমবার হয়ে থাকে তাহলে আগামীকালের পরের তৃতীয় দিন হবে

(A) বৃহস্পতিবার (B) শুক্রবার (C) শনিবার (D) রবিবার

71. টোডা উপজাতি দেখতে পাওয়া যায়

(A) ঝাড়খণ্ডে (B) ছত্তিশগড় (C) উত্তরাখণ্ডে (D) নীলগিরি পর্বতে

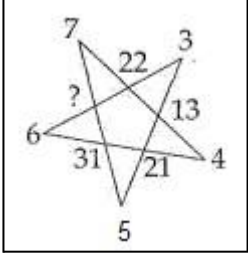
72. ভারতে প্রয়োজনীয় খনিজ তেলের কত শতাংশ আমদানি করা হয় ?

(A) 65 শতাংশ (B) 70 শতাংশ (C) 75 শতাংশ (D) 80 শতাংশ

73. কপিলধারা ফলসের অবস্থান

(A) সোন নদীর উপর (B) চম্বল নদীর উপর (C) নর্মদা নদীর উপর (D) কৃষ্ণা নদীর উপর

74. পাশের ছবিটির ? চিহ্নিত স্থানে যে সংখ্যাটি বসবে সেটি হল



(A) 43 (B) 39 (C) 22 (D) 12

75. তড়িৎ শক্তিকে যান্ত্রিক শক্তিতে রূপান্তরিত করে

(A) থার্মোস্ট্যাট (B) মোটর (C) ডায়নামো (D) রেকটিফায়ার

76. 1992 সালে সংবিধানের 73 তম সংশোধনীটি

1. গ্রাম ও অন্যান্য স্তরে পঞ্চায়েত গঠনের বিষয়টিকে সাংবিধানিক বৈধতা দিয়েছে।
 2. সংবিধানে শহরের স্বায়ত্তশাসিত সংস্থাগুলি সম্পর্কে একটি নতুন অংশ সংযোজিত করেছে।
 3. নির্দিষ্ট করেছে যে রাজ্য নির্বাচনী কমিশনের তত্ত্বাবধানে অনুষ্ঠিত নির্বাচনে সব পঞ্চায়েত সদস্যরা পাঁচ বছর মেয়াদে নির্বাচিত হবেন।
 4. উপরের বিবৃতি গুলির মধ্যে কোনটি / কোনগুলি সঠিক ?
- (A) 1 এবং 2 (B) 1 এবং 3 (C) শুধুমাত্র 1 (D) শুধুমাত্র 2

77. সমপর্যায়ভুক্ত ব্যক্তিদের নিয়ে গঠিত স্বনির্ভর সংস্থাগুলির সাহায্যে ক্ষুদ্রঋণ প্রকল্প পরিচালনার জন্য শীর্ষ সংস্থাটি কী?
(A) আঞ্চলিক গ্রামীণ ব্যাঙ্ক (B) গ্রামীণ ব্যাঙ্ক (C) ভারতীয় স্টেট ব্যাঙ্ক (D) কৃষি ও গ্রামোন্নয়নের জন্য ন্যাশনাল ব্যাঙ্ক

78. নাদীর শাহ ভারত আক্রমণ করেছিলেন

(A) 1738 খ্রীঃ (B) 1739 খ্রীঃ (C) 1740 খ্রীঃ (D) 1741 খ্রীঃ

79. একটি সুতির কাপড়ের এক প্রান্তে একটি গ্লাসের জলে নিমজ্জিত থাকলে কাপড়টি ভিজে যায়। এর কারণ

(A) মহাকর্ষ (B) সান্দ্রতা (C) স্থিতিস্থাপকতা (D) কৈশিক ক্রিয়া

80. মেগাস্থিনিস কে ছিলেন

(A) সেলুকাসের দূত (B) চন্দ্রগুপ্ত মৌর্যের প্রধানমন্ত্রী (C) গ্রিক পরিব্রাজক (D) চিনা ভ্রমণকারী

81. পিঙ্কু বাবু 4 বুড়ি আম কিনে আনলেন এগুলিতে রয়েছে যথক্রমে 15, 18, 21, ও 22 টি আম। তিনি এদের মধ্যে একটি বুড়ির সমস্ত আম নিজের বাড়ির জন্য রেখে বাকি আমগুলি কাছাকাছি পাঁচ বন্ধুর মধ্যে সমান ভাগে বিলিয়ে দিলেন। তিনি যে নিজের বাড়ির জন্য রেখেছিলেন, তাতে কটি আম ছিল ?

(A) 15 (B) 18 (C) 21 (D) 22

82. হিমালয় হচ্ছে...

(A) ভঙ্গিল পর্বত (B) স্তম্ভ পর্বত (C) অবশিষ্ট পর্বত (D) টেবিল ল্যান্ড

83. সুনামির উৎপত্তি নিম্নলিখিত কারণে

- (A) সমুদ্রতলের প্লেটের সঞ্চালনে (B) সমুদ্রতলের অগ্নুৎপাত (C) জোয়ারের পরিবর্তন (D) উপরের কোনটিই নয়
84. ভারতীয় সংবিধানের কোন ধারাতে কেন্দ্র ও রাজ্যগুলির মধ্যে আর্থিক সম্পর্কের বিষয়ে সুপারিশ করার জন্য অর্থ কমিশন গঠনের সংস্থান করা হয়েছে ?
(A) 245 ধারা (B) 280 ধারা (C) 356 ধারা (D) 370 ধারা
85. রাজতরঙ্গিনী কার লেখা?
(A) কৌটিল্য (B) মেগাস্থিনিস (C) কলহন (D) ঐদের কেউ নন
86. কোন বছরে দিল্লি দরবারে ইংল্যান্ডের রাণীকে ভারত-সম্রাজ্ঞীরূপে ঘোষণা করা হয়েছিল ?
(A) 1876-77 খ্রীঃ (B) 1911 খ্রীঃ (C) 1921 খ্রীঃ (D) উপরের কোনটিই নয়
87. নব্যবঙ্গ আন্দোলনের মূল অনুপ্রেরনা কে ছিলেন ?
(A) রামমোহন (B) ডিরোজিও (C) দেবেন্দ্রনাথ (D) ডেভিড হেয়ার
88. 'সনাতনপন্থী সংস্কারক' কাকে বলা হয় ?
(A) বিদ্যাসাগর (B) স্বামী বিবেকানন্দ (C) রামমোহন (D) বি. জি. তিলক
89. টিপু সুলতানের রাজধানী ছিল
(A) মহীশূর (B) সেরেঙ্গাপট্টম (C) শৃঙ্গেরী (D) বেলুড়
90. 'ভারতের অর্ধনগ্ন ফকির' - ব্রিটিশ প্রধানমন্ত্রী কার সম্বন্ধে বলেছিলেন
(A) তেজ বাহাদুর সপ্রু (B) গান্ধীজি (C) মহম্মদ আলি (D) বি. আর. আম্বেদকর
91. যদি CAT = 346 , COW = 398, DOG = 490, RAT = 256 হয় তাহলে FOX -এর একটি সম্ভাব্য সংকেত লিপি হবে
(A) 701(B) 107 (C) 791 (D) 193
92. স্বরাজ্য পার্টির প্রতিষ্ঠাতা-সভাপতি কে ছিলেন ?
(A) মতিলাল নেহরু (B) সি.আর.দাশ (C) রাজেন্দ্রপ্রসাদ (D) রাজা গোপালাচারী
93. একটি কলেজ ইউনিয়ন নির্বাচনে সাধারণ সম্পাদকের পদে 60% ভোট পেয়ে সুরুপা সরাসরি প্রতিদ্বন্দ্বিতায় অনন্যাকে 60 ভোটে পরাজিত করে । ঐ নির্বাচনে বৈধ ভোটের মোট সংখ্যা
(A) 120 (B) 150 (C) 300 (D) 360
94. মনে করুন (I) কেবল কঠোর পরিশ্রমী মানুষেরাই ধনী হয় , এবং (II) সকল সফল মানুষেরাই কঠোর পরিশ্রমী হয় । তাহলে উপরের স্বীকরণ দুটি থেকে নিচের কোন সিদ্ধান্তটি পাওয়া যায় ?
(A) অতীন কঠোর পরিশ্রমী ; অতএব সে ধনী এবং সফল দুইই
(B) বিতান সফল ; অতএব সে ধনী
(C) চায়ন সফলও নয় ধনীও নয় ; অতএব সে কঠোর পরিশ্রমী নয়
(D) ডিউক কঠোর পরিশ্রমী নয় ; অতএব সে সফলও নয় ধনীও নয়

95. পাশ্চিমবঙ্গে 2001 সেনসাস অনুযায়ী, সর্বাধিক জনসংখ্যা বৃদ্ধির হার পাওয়া যায়
(A) মালদায় (B) উত্তর দিনাজপুরে (C) দক্ষিণ দিনাজপুরে (D) দক্ষিণ 24 -পরগনায়
96. সাইমন কমিশন নিয়োগ করা হয়েছিল
(A) ভারতের সাংবিধানিক সংস্কারের জন্য (B) শাসন সংস্কারের জন্য (C) শিক্ষা সংস্কারের জন্য (D) জেল কোড সংস্কারের জন্য
97. ভারতের পাশ্চাত্য শিক্ষার পক্ষে কোন গভর্নর জেনারেল সিদ্ধান্ত গ্রহণ করেছিলেন?
(A) লর্ড কর্নওয়ালিশ (B) লর্ড বেন্টিন্গ (C) লর্ড রিপন (D) লর্ড কার্জন
98. কোন গভর্নর জেনারেল-এর আমলে বিধবা বিবাহ আইন প্রণীত হয়েছিল?
(A) লর্ড রিপন (B) লর্ড ক্যানিং (C) লর্ড ডালহৌসি (D) লর্ড বেন্টিন্গ
99. 1, 4, 13, 40, 122, 364 এই সংখ্যাটির কোন সংখ্যাটি সঠিক নয় ?
(A) 13 (B) 40 (C) 122 (D) 364
100. একটি গোল টেবিল ঘিরে কেন্দ্রের দিকে মুখ করে A, B, C, D, E, F, G, ও H এই 8 জন বসে আছে। D বসেছে F-এর বাঁদিকের দ্বিতীয় স্থানে এবং H-এর ডানদিকের তৃতীয় স্থানে। A বসেছে F-এর ডানদিকের দ্বিতীয় স্থানে; তার পাশে বসেছে H, C, বসেছে B-এর ডানদিকের দ্বিতীয় স্থানে এবং F বসেছে B -এর ডানদিকের তৃতীয় স্থানে। F-এর পাশে G বসেনি।
উপরের তথ্য অনুসারে A-এর ঠিক বাঁদিকে কে বসেছে ?
(A) H (B) E (C) G (D) B
101. 4, 5, 5, 5, 6, 5, 7 এই সারির পরবর্তী পদটি
(A) 5 (B) 7 (C) 7 (D) 8
102. শাল এক ধরনের
(A) কনিফেরাস গাছ (B) পর্ণমোচি গাছ (C) চিরহরিৎ গাছ (D) জোরোফাইটিক গাছ
103. দিব্য জীবন (লাইভ ডিভাইন) এর লেখক কে ?
(A) স্বামী বিবেকানন্দ (B) কেশব চন্দ্র (C) সিস্টার নিবেদিত (D) অরবিন্দ ঘোষ
104. 'সমষ্টি উন্নয়ন কর্মসূচি' টি ভারতে কোন সালে চালু হয়েছিল।
(A) 1950 (B) 1951 (C) 1952 (D) 1953
105. 'অমৃত বাজার পত্রিকা' কে প্রতিষ্ঠা করেন ?
(A) সুরেন্দ্রনাথ ব্যানার্জী (B) বারীন্দ্র ঘোষ (C) কৃষ্ণ কুমার মিত্র (D) শিশির কুমার মিত্র
106. মুসলিম লীগ অন্তর্বর্তী সরকারে কবে যোগদান করেছিল ?
(A) অক্টোবর 1946 (B) নভেম্বর 1946 (C) ডিসেম্বর 1946 (D) জানুয়ারী 1947
107. নীচের কোন ছবিটি তপন সিংহ পরিচালিত ?

- (A) জিন্দগী জিন্দগী (B) সাগিনা (C) এক ডক্টর কি মৌত (D) উপরের সব গুলিই
108. নীল দর্পণ ইংরেজিতে কে অনুবাদ করেন ?
(A) মধুসূদন দত্ত (B) রেভ. জেমস লং (C) হারিস চন্দ্র মুখার্জী (D) কালীপ্রসন্ন সিংহ
109. পশ্চিমবঙ্গের সুন্দরবনকে 'ওয়ার্ল্ড হেরিটেজ সাইট' নামে নিম্নোক্ত সালে ঘোষণা করা হয়েছে ?
(A) 1999 (B) 1989 (C) 1979 (D) 1969
110. ভাকরা নাঙ্গাল জলাধার নিম্নোক্ত নদীর উপরে অবস্থিত:
(A) ঝিলাম (B) শতদ্রু (C) বিপাশা (D) সিন্ধু
111. ভারতের বায়লদিলা পর্বত বিখ্যাত উৎপাদনের জন্য:
(A) অ্যালুমিনিয়াম (B) লৌহ আকরিক (C) বক্সাইট (D) মাইকা
112. বিশ্ব বর্ণবৈষম্য বিরোধী সম্মেলন সম্প্রতি অনুষ্ঠিত হয়েছে
(A) বেজিতে (B) ডারবানে (C) বন-এ (D) জেনিভায়
113. গান্ধীজির কোন আন্দোলন খিলাফত আন্দোলনের সঙ্গে যুক্ত হয়?
(A) আইন অমান্য (B) অসহযোগ (C) ভারত ছাড় (D) নীল চাষের বিরুদ্ধে
114. সত্যম কমপুটার অধিগ্রহণ করেছে
(A) লার্সেন এন্ড টুরো (B) টি.সি.এস (C) টেক মাহিন্দ্রা (D) ডব্লিউ. এল. রস
115. নিখিল ভারতে ট্রেড ইউনিয়ন কংগ্রেসের প্রথম সভাপতি কে ছিলেন ?
(A) লালা লাজপত রায় (B) দেওয়ান চমনলাল (C) চিত্তরঞ্জন দাশ (D) সুভাষ চন্দ্র বোস
116. বঙ্গ-ভঙ্গ রদ হয়েছিল
(A) 1905 (B) 1906 (C) 1911 (D) 1909
117. যদি LALGARH-এর একটি সম্ভাব্য সংকেত লিপি হবে
(A) BQGSQGU (B) BPGSQGU (C) BPGTQGU (D) BPFSQGU
118. খিলাফত আন্দোলনের নেতৃত্ব কে/কারা দিয়েছিলেন ?
(A) সৈয়দ আহমেদ (B) ইকবাল (C) মহম্মদ আলি ও সৌকত আলি (D) রহমত আলি
119. মধ্যপ্রদেশে উৎপন্ন 'বক্সাইট' ব্যবহৃত হয়
(A) ব্রোঞ্জ উৎপাদনে (B) অ্যালুমিনিয়াম উৎপাদনে (C) তামা উৎপাদনে (D) অল্প উৎপাদনে
120. কোন সংখ্যার 60% এর সাথে 50 যোগ করিলে সংখ্যাটি সমান হয় তাহলে সংখ্যাটি হল
(A) 110 (B) 125 (C) 200 (D) 300
121. কে প্রথম 'ভারতের গভর্নর জেনারেল' উপাধি প্রাপ্ত হন ?
(A) লর্ড ক্লাইভ (B) স্যার জন শোর (C) ওয়ারেন হেস্টিংস (D) লর্ড কর্ণওয়ালিশ

122. C হল A এর একমাত্র কন্যা B ও D হল C এর দুটি মাত্র ভাই। A-র তিন নাতি E, G ও M-এর মধ্যে E এবং M হল যথাক্রমে B ও D-এর একমাত্র পুত্র। A-র তিন নাতনি F, H ও N যথাক্রমে C ও D-এর একমাত্র কন্যা। তাহলে B হল G -এর
(A) মামা (B) কাকা (C) ভাইপো (D) পিসতুতো ভাই
123. AIDS/HIV ভাইরাস এক প্রকারের
(A) DNA ভাইরাস (B) RNA ভাইরাস (C) হয় DNA অথবা RNA ভাইরাস (D) উভয় প্রকার, DNA অথবা RNA ভাইরাস
124. 19 জন ছাত্র একটি ক্লাস পরীক্ষা দিয়েছিল। সবথেকে বেশী 10টি নম্বরের গড় হল 69, আর সবথেকে কম 10টি নম্বরের গড় হয় 54 তাহলে মানের ক্রমানুসারে সাজানো দশম নম্বরটি হবে
(A) 62 (B) 58 (C) 46 (D) 44
125. ফিসক্যাল রেসপনসিবিলিটি ও বাজেট ম্যানেজমেন্ট আইন যে বিষয় / বিষয়গুলির উপর প্রযোজ্য তা হল বাজেটের
(A) শুধু রেভিনিউ ঘাটতি (B) শুধু ফিসক্যাল ঘাটতি (C) ফিসক্যাল ও রেভিনিউ ঘাটতি, উভয়েই (D) শুধু রাজ্যগুলির বাজেটের ফিসক্যাল ঘাটতি
126. চেঙ্গিস খাঁ কবে ভারত আক্রমণ করেছিল
(A) 1211 খ্রীঃ (B) 1221 খ্রীঃ (C) 1399 খ্রীঃ (D) 1526 খ্রীঃ
127. ফেব্রুয়ারি মাসে ভারত যাদের সঙ্গে নৌমহড়ার অংশ নেয় সে দুটি দেশ হল মার্কিন যুক্তরাষ্ট্র এবং
(A) জাপান (B) অস্ট্রেলিয়া (C) দক্ষিণ কোরিয়া (D) উপরের কোনটি নয়
128. শিক্ষার অধিকার বিল সম্পর্কে নিম্নোক্ত বিবৃতিগুলি বিচার করুন :1. ইউ.পি.এ সরকার এই বিলটি সম্পর্কে প্রাথমিক কাজকর্ম শুরু করেছিলেন2. বিলটিতে উল্লিখিত একটি অন্যতম প্রধান বিষয় হল এতে আশেপাশের অঞ্চলের পিছিয়ে পড়া ছেলেমেয়েদের শুরুতে ভারতী হওয়ার সময় বেসরকারী স্কুলগুলিতে 25 শতাংশ আসন সংরক্ষিত রাখতে হবে।3. বিলটিতে ছাত্রছাত্রীদের দৈনিক শাস্তি, বিতাড়ন বা জোর করে আটক করে রাখা নিষিদ্ধ করা হয়েছে
(A) শুধুমাত্র 1 (B) শুধুমাত্র 2 (C) 2 এবং 3 (D) 1, 2 এবং 3 প্রত্যেকটি
129. শের-ই পাঞ্জাব কাকে বলা হয় ?
(A) রণজিৎ সিং (B) অমর সিং (C) লালা লাজপত রায় (D) ভগৎ সিং
130. যশপাল কমিটি রিপোর্টের বিষয় হল
(A) টেলিযোগাযোগ (B) উচ্চ শিক্ষা (C) গ্রামীণ স্বাস্থ্য ব্যবস্থা (D) পানীয় জল সরবরাহ
131. যানবাহন দ্বারা বায়ুদূষণকে নিয়ন্ত্রণের প্রচেষ্টা স্বরূপ অটো রিক্সাকে জ্বালানি বদলানোর নির্দেশ দেওয়া হয়েছে নিম্নোক্ত জ্বালানির সাহায্যে:
(A) পেট্রল (B) মাদক দ্রব্য থেকে উৎপাদিত জ্বালানি (C) সি.এন.জি. (D) ডিজেল
132. ভারতের বৈদেশিক মুদ্রা ভান্ডারে আর্থিক মূল্যের পরিমাপে বৃহত্তম অবদান আসে

(A) ইঞ্জিনিয়ারিং দ্রব্যাদি থেকে (B) সফটওয়্যার পরিষেবা থেকে (C) রত্ন ও অলংকারাদি থেকে (D) তৈয়ারী বস্ত্রসামগ্রী থেকে

133. আদিগ্রন্থ কী ?

(A) শিখদের একটি ধর্মীয় পুস্তক (B) মানুষের ব্যবহারের মৌলিক বিধি সমন্বিত একটি পুস্তক (C) মধ্যযুগের ব্যবহারের শাসকদের জন্য একটি পুস্তক (D) উপরের কোনোটিই নয়

134. অ্যালবার্টো ফুজিমোরি ছিলেন _____ এর রাষ্ট্রপতি।

(A) পেরু (B) জাপান (C) উত্তরপ্রদেশ ও বিহার (D) গুজরাট ও মহারাষ্ট্র

135. 'বাঘা যতীন' নামে কে পরিচিত ছিলেন ?

(A) বাঘা যতীন দাস (B) যতীন্দ্রনাথ মুখার্জী (C) যতীন্দ্রমোহন সেনগুপ্ত (D) উপরের কোনোটিই নয়

136. নিখিল ভারত হোমরুল লীগ -এর প্রতিষ্ঠাতা ছিলেন

(A) অ্যানি বেসান্ত (B) মহিলাল নেহরু (C) বি.আর.আম্বেদকর (D) সরোজিনী নাইডু

137. একটি বাইসাইকেল চড়ে অয়ন A থেকে 2 কিমি. ঠিক পশ্চিমে D তে যায়। তারপর সেখান থেকে 8 কিমি. ঠিক পূর্বে B তে পৌঁছায় A হয়ে এবং সবশেষে B থেকে 8 কিমি. ঠিক উত্তরে C তে পৌঁছায়। এখন তার A থেকে কিলোমিটার দূরত্ব হল

(A) 10 (B) 12 (C) 14 (D) 18

138. বন সংরক্ষণ কমিটির সদস্য হচ্ছে

(A) বন দপ্তরের গার্ডরা (B) পঞ্চায়েত সদস্য (C) বনের গ্রাস, বন দপ্তর ও পঞ্চায়েত (D) বন দপ্তরের আধিকারিকেরা

139. জালিয়ানওয়ালাবাগ হত্যাকাণ্ড কোন সালে ঘটেছিল ?

(A) 1908 (B) 1909 (C) 1918 (D) 1919

140. শিবাজীর রাজ্যভিষেক হয়েছিল

(A) 1672 খ্রীঃ (B) 1673 খ্রীঃ (C) 1674 খ্রীঃ (D) 1975 খ্রীঃ

141. জলবন্টন সংক্রান্ত সমস্যা নিম্নলিখিত রাজ্যের মধ্যে সৃষ্টি হয়েছে

(A) মধ্যপ্রদেশ ও উড়িষ্যা (B) কর্ণাটক ও তামিলনাড়ু (C) উত্তরপ্রদেশ ও বিহার (D) গুজরাট ও মহারাষ্ট্র

142. ভারতে বিভিন্ন ধরনের প্রবাল পাওয়া যায়

(A) লাক্ষাদ্বীপে (B) দমন ও দিউ-এ (C) সুন্দরবনে (D) নর্মদা নদীর মোহনায়

143. বাঁকুড়ায় মৃত্তিকা হচ্ছে

(A) পডজলিক মৃত্তিকা (B) অ্যালুভিয়াল মৃত্তিকা (C) ল্যাটারিটিক মৃত্তিকা (D) সিল্টি মৃত্তিকা

144. ভারতের প্রথম প্রধান মন্ত্রী যিনি তৎকালীন ভারতীয় জাতীয় কংগ্রেসের সদস্য পদে ছিলেন

(A) চরণ সিং (B) বিশ্বনাথ প্রতাপ সিং (C) চন্দ্রশেখর (D) মোরারজী দেশাই

145. শাসন কার্যকালে কোন গভর্নর জেনারেল নিহত হয়েছিলেন ?
(A) লর্ড মেয়ো (B) লর্ড হার্ডিঞ্জ (C) লর্ড নর্থব্রুক (D) লর্ড লিটন
146. ইরাণ সম্প্রতি তার ইসলাম বিপ্লবের _____ তম বার্ষিকী পালন করল
(A) 20 (B) 25 (C) 30 (D) 50
147. দীর্ঘকালীন কর্মনিয়োগের জন্য নীতি নির্ধারণের বিষয়ে নিম্নোক্ত পরিকল্পনাগুলির কোনটিতে এক সাহসী পদক্ষেপ নেওয়া হয়েছিল ?
(A) পঞ্চম পরিকল্পনা (B) ষষ্ঠ পরিকল্পনা (C) সপ্তম পরিকল্পনা (D) অষ্টম পরিকল্পনা
148. 'স্কুলবুক সোসাইটি' কে প্রতিষ্ঠা করেন ?
(A) উইলিয়াম জোনস (B) হাইড ইস্ট (C) ডি. বেথুন (D) ডেভিড হেয়ার
149. নাগার্জুনাঙ্গর বহুমুখী প্রকল্পের বাঁধ নিম্নলিখিত নদীর উপর অবস্থিত :
(A) কৃষ্ণা (B) কাবেরী (C) তুঙ্গভদ্রা (D) সোন
150. সম্প্রতি মুম্বাই সন্ত্রাস কাণ্ডের পর খবরে 'ডিমার্শ' শব্দটি বহুবার ব্যবহৃত তাতে দেখা গিয়েছে। 'ডিমার্শ' এর অর্থ কি?
(A) বিদেশের একটি নির্দিষ্ট এলাকায় আকাশপথে চকিতে আঘাত হানা
(B) রাষ্ট্রের অভ্যন্তরীণ নাশকতা মূলক কার্যকলাপ নিয়ে একটি গোপন প্রতিবেদন
(C) সরকারি অবস্থান নিয়ে একটি কুটনৈতিক উপস্থাপন
(D) পুলিশি ব্যবস্থা নিয়ে সরকারের কাছে পেশ করা সুপারিশ
151. নিম্নোক্তগুলির মধ্যে কোথায় জাতি দাঙ্গা ঘটেছে ?
(A) উরুমকি (B) যুহান (C) তিয়ানজিন (D) তাইচুং
152. এক ব্যক্তি পূর্বদিকে মুখ করে দাঁড়িয়ে থাকার সময় পর পর দুবার তার ডানদিকে ঘুরল , এবার পর পর তিনবার ঘুরল তার বাঁদিকে এবং সবশেষে পর পর দুবার ঘুরল তার ডানদিকে । এখন সে কোনদিকে মুখ করে দাঁড়িয়ে আছে ?
(A) পূর্ব (B) পশ্চিম (C) উত্তর (D) দক্ষিণ
153. শ্বসনে , যে গুরুত্বপূর্ণ ভূমিকা সাইটোসল পালন করে তা হল
(A) অক্সিডেটিভ ফসফোরাইলেশন -এ
(B) পাইরুবিক অ্যাসিডের অক্সিডেটিভ-ডি-কার্বক্সিলেশন -এ
(C) ক্রেবস চক্র -এ
(D) গ্লাইকোলাইসিস- এ
154. ভারতের জাতীয় কংগ্রেসের দ্বিতীয় অধিবেশনে কে সভাপতিত্ব করেন ?
(A) দাদাভাই নৌরজী (B) বদরুদ্দিন তায়েরজী (C) ডব্লিউ সি. ব্যানার্জি (D) ফিরোজশা মেহতা
155. কোন আইনের দ্বারা রানী ভিক্টোরিয়া ভারতের সম্রাজ্ঞী হন ?
(A) রয়্যাল টাইটেলস অ্যাক্ট, 1876

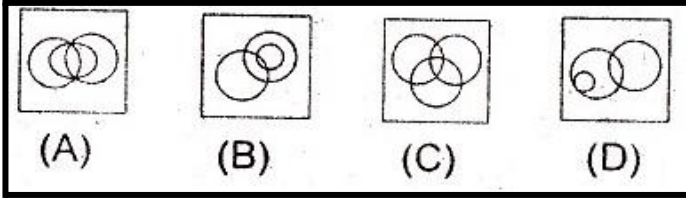
- (B) অ্যাক্ট অফ 1858
(C) কাউন্সিল অ্যাক্ট,1861
(D) অ্যাক্ট অফ 1872
156. আকবরের রাজত্বকালে কোন রাজকর্মচারীকে বকসী বলা হত ?
(A) শহরের শাসন ব্যবস্থায় ভারপ্রাপ্ত কর্মচারীকে
(B) সামরিক সংগঠনের ভারপ্রাপ্ত কর্মচারীকে
(C) একজন শাসনতান্ত্রিক / কাযনির্বাহী কর্মচারীকে
(D) এদের কাউকেই নয়
157. এদের মধ্যে কোনটি সম্প্রতি নিজেকে, দেউলিয়া ঘোষণা করে?
(A) জেনারেল মোটরস (B) টায়োটা (C) হুডাই (D) হুডা
158. গঙ্গানদী সমুদ্রে প্রবাহিত হয়
(A) মোহনার মাধ্যমে (B) ব-দ্বীপের মাধ্যমে (C) পাখির পায়ের মত মোহনার মাধ্যমে (D) উপরের কোনটিই নয়
159. নীচের দেওয়া বিবৃতিগুলি বিবেচনা করুন :
1. ভারতীয় সংবিধানের দ্বিতীয় অংশে 12 নম্বর থেকে 35 নম্বর ধারার মধ্যে ভারতীয় নাগরিকদের মৌলিক অধিকারগুলি বিবৃত আছে 2. সংবিধানে সম্পত্তির অধিকার অন্যতম একটি মৌলিক অধিকার উপরের বিবৃতিগুলির মধ্যে কোনটি / কোন গুলি সঠিক ?
(A) শুধুমাত্র 1 (B) শুধুমাত্র 2 (C) 1 এবং 2 উভয়েই (D) 1 এবং 2 এর কোনটিই নয়
160. _____ কে আন্তর্জাতিক জ্যেতিবিজ্ঞান বর্ষ ঘোষণা করা হয়েছে।
(A) 2008 (B) 2009 (C) 2010 (D) উপরের কোনটিই নয়
161. ক্লাইভের বাংলার দেওয়ানী প্রাপ্তি ঘটেছিল
(A) 1757 খ্রীঃ (B) 1765 খ্রীঃ (C) 1772 খ্রীঃ (D) 1784 খ্রীঃ
162. ভারতীয় বিপ্লবীদের জননীরূপ খ্যাত ছিলেন
(A) ভাগিনী নিবেদিত (B) অ্যানি বেসান্ত (C) মাদাম কামা (D) মাতঙ্গিনী হাজারা
163. নিম্নোক্ত ভারতীয় রাজ্যগুলির কোনটিতে জনঘনত্ব সর্বাপেক্ষা বেশী ?
(A) পশ্চিমবঙ্গ (B) মহারাষ্ট্র (C) উত্তরপ্রদেশ (D) বিহার
164. ভারতের নতুন সংবিধান কবে গৃহিত (স্বাক্ষরিত) হয়েছিল?
(A) 26 নভেম্বর 1949 (B) 20 ডিসেম্বর 1949 (C) 25 ডিসেম্বর 1949 (D) 26 জানুয়ারী 1950
165. নীচের কোন দলটি গত লোকসভা নির্বাচনে তৃতীয় ফ্রন্টের অন্তর্ভুক্ত ছিল না ?
(A) CPI(M) (B) জনতা (S) (C) TRS (D) SP
166. বম্বে হাইকোর্ট সম্প্রতি রিলায়েন্স ইন্ডাস্ট্রির সঙ্গে _____ এর সংযুক্তিকরণের নির্দেশ দিয়েছে

(A) রিলায়েন্স ন্যাচারাল (B) রিলায়েন্স ইনফ্রা (C) রিলায়েন্স পেট্রোলিয়াম (D) রিলায়েন্স পাওয়ার

167. ভারতীয় সংবিধানের ষষ্ঠ তালিকায় যে বিষয় নিয়ে সংস্থান রাখা হয়েছে তা হল

- (A) আসাম, মেঘালয় ও মিজোরাম রাজ্যের উপজাতি এলাকাগুলির প্রসাশন
 (B) কতকগুলি রাজ্যের তপশীলভুক্ত এলাকাগুলির প্রসাশন ও নিয়ন্ত্রণ
 (C) কোন কোন ক্ষমতা এবং বিষয় কেন্দ্র ও রাজ্যগুলির অধীনে থাকবে
 (D) দলত্যাগের কারণে কখন পদ বাতিল হবে

168. নীচের কোন ছবিটি সব মানুষের সমষ্টি, সব সাঁতারুর সমষ্টি এবং সব ভারতীয়ের সমষ্টি নির্দেশ করে?



- (A) (B) (C) (D)

169. ভারতে আমূল অর্থনৈতিক সংস্কার ও উদারনীতি চালু হয়েছিল

- (A) 1990 সালে (B) 1991 সালে (C) 1992 সালে (D) 1993 সালে

170. 'খুতবা' কি ?

- (A) শুক্রবারের নামাজের সময় শাসনকর্তা রাজার নামে উপদেশমূলক প্রশস্তি পাঠ
 (B) রাজাদেশ
 (C) রাজার দেওয়া শাস্তি
 (D) উপরের কোনটিই নয়

171. প্রথম তালিকাটির সঙ্গে দ্বিতীয় তালিকাটিকে মিলিয়ে নিয়ে নিচে দেওয়া সংকেতগুলি ব্যবহার করে সঠিক উত্তরটি বেছে নিতে হবে ?

- | প্রথম তালিকা (ব্যক্তি) | দ্বিতীয় তালিকা (পদ) |
|--------------------------|---|
| (a) এন.গোপালস্বামী | 1. মুখ্য তথ্য মহাধ্যক্ষ |
| (b) সুখদেও খোরাট | 2. মুখ্য নির্বাচনী মহাধ্যক্ষ |
| (c) ওয়াজাহাৎ হবিবুল্লাহ | 3. সভাপতি, জাতীয় মানবাধিকার অয়োগ |
| (d) এস.রাজেন্দ্রবাবু | 4. সভাপতি, বিশ্ববিদ্যালয় মঞ্জুরি অয়োগ |

- (A) a -2, b -1, c -4, d -3
 (B) a -1, b -3, c -4, d -2
 (C) a -2, b -4, c -3, d -1
 (D) a -2, b -4, c -1, d -3

172. ভারতে বিশ্বায়নের ধারা প্রতিফলিত হচ্ছে

- (A) 'Neighbourhood' দোকানের মাধ্যমে

- (B) স্থানীয় ব্যবসার মাধ্যমে
(C) শপিং মলের মাধ্যমে
(D) Stationery দোকানের মাধ্যমে

173. একটি সংকর ধাতুতে 2% দস্তা, 45% নিকেল এবং অবশিষ্ট অংশ অ্যালুমিনিয়াম আছে। 105 গ্রাম অ্যালুমিনিয়াম বিশিষ্ট এরকম একটি সংকর ধাতুর মোট ভর (গ্রাম-এ) কত?
(A) 170 (B) 200 (C) 250 (D) 300
174. কলকাতার মেডিক্যাল কলেজ কোন বছর স্থাপিত হয়েছিল?
(A) 1829 খ্রীঃ (B) 1835 খ্রীঃ (C) 1858 খ্রীঃ (D) 1884 খ্রীঃ
175. গত উইম্বলডন (2009) ছিল রজার ফেডেরারের _____ তম গ্রাণ্ড স্লাম খেতাব।
(A) 15 (B) 16 (C) 17 (D) 18
176. কোরাজন আকুইনো ছিলেন _____ এর রাষ্ট্রপ্রধান।
(A) থাইল্যান্ড (B) ফিলিপিনস (C) ফিজি (D) অস্ট্রেলিয়া
177. গত আগস্ট মাসে (2009) ভারত _____ এর সঙ্গে একটি মুক্ত বাণিজ্য চুক্তি স্বাক্ষর করেছে।
(A) OPEC (B) AU (C) ASEAN (D) NAFTA
178. পশ্চিমবঙ্গে বাগিচা কৃষি নিম্নলিখিত জেলার বৈশিষ্ট্য
(A) মালদা (B) দার্জিলিং (C) বাঁকুড়া (D) হাওড়া
179. নিম্নোক্ত ব্যক্তিগণের মধ্যে কে ভারতের কিছু অংশ দখল করে তাঁর পূর্বপুরুষদের নামে সাম্রাজ্যের ভিত্তি স্থাপন করেছিলেন।
(A) হুমায়ুন (B) শেরশাহ (C) বাবর (D) ঐদের কেউই নয়
180. ভারত _____ এর সদস্য নয়।
(A) BRIC (B) BIMSTEC (C) SCO (D) WTO
181. 'আঁধি' নামক ঝড় নিম্নলিখিত স্থানে ঘটে।
(A) পাঞ্জাব (B) পশ্চিমবঙ্গ (C) আসাম (D) উত্তরপ্রদেশ
182. নিচে দেওয়া বিবৃতিগুলি বিচার করুন :
1. রাজ্যসভা একটি স্থায়ী প্রতিষ্ঠান।
2. রাজ্যসভার প্রতি সদস্য সর্বোচ্চ পাঁচ বছর পদে আসীন থাকতে পারেন।
3. লোকসভা রাজ্য তালিকার বিষয়ে আইন প্রণয়ন করতে পারে।
উপরের বিবৃতিগুলি কোনটি / কোনগুলি সঠিক ?
(A) 2 এবং 3 (B) 1 এবং 3 (C) শুধুমাত্র 2 (D) 1,2 এবং 3-এর কোনটিই নয়

183. দুটি বস্তু A ও B -এর ভর যথাক্রমে m এবং 5m । একই সময় ধরে সমান বল এদের উপর প্রয়োগ করা হল। তাহলে
(A) A ও B -এর বেগ সমান হবে
(B) A ও B -এর ভরবেগ সমান হবে
(C) A -এর ভরবেগ বেশী হবে
(D) B-এর ভরবেগ বেশী হবে
184. ভারতে 'Coastal Regulation Zones' সনাক্ত করা হয়েছে নিম্নোক্ত গুণাকের উপর ভিত্তি করে :
(A) জোয়ারের উচ্চতা (B) সমুদ্রের স্তর বৃদ্ধি (C) জলের গভীরতা (D) সমুদ্র তালের উচ্চতা
185. কোন সংবিধান সংশোধনী আইনে সমস্ত ভারতীয় নাগরিককে শিক্ষার অধিকার দেওয়া হয়েছে ?
(A) 73 তম (B) 74 তম (C) 86 তম (D) 91 তম
186. পাইকারী মূল্যসূচকের হিসাবে নিম্নোক্ত কোন বছরটি বর্তমানে ভিত্তি বছর হিসাবে ধরা হয়ে থাকে?
(A) 1990-91 (B) 1991-92 (C) 1992-93 (D) 1993-94
187. ইউনিক আইডেন্টিফিকেশন অথরিটির চেয়ারপার্সন কে?
(A) বি.জি.ভার্গিস (B) নন্দন নিলেকানি (C) স্যাম পিত্রোদা (D) নন্দন বাগচী
188. অশোক, দিবাকর, অরুণ ও ব্রতীনের মধ্যে দিবাকর অরুণের থেকে ছোট। ব্রতীন কেবলমাত্র অশোকের থেকে বড়। তাহলে সবথেকে বড় হল
(A) বলা যাবে না - তথ্য অসম্পূর্ণ (B) নন্দন নিলেকানি (C) স্যাম পিত্রোদা (D) নন্দন বাগচী
189. গাঙ্গুবাঈ হাঙ্গল ছিলেন _____ ঘরানার শিল্পী।
(A) আগ্রা (B) গোয়ালিয়র (C) মেওয়াট (D) কিরানা
190. দক্ষিণ মেরুতে ভারতের তৃতীয় গবেষণা কেন্দ্রটির নাম হবে
(A) গঙ্গোত্রী (B) মৈত্রী (C) ভারতী (D) অলকা
191. সম্প্রতি 62.9 শতাংশ সাধারণ শেয়ার মূলধন কিনে নিয়ে জাপানের দাইইচি সাংকিও ভারতের কোন ঔষধ কোম্পানী অধিগ্রহণ করেছে ?
(A) রানবাল্কী (B) ড: রেড্ডিস ল্যাবোরেটেরিস (C) নিকোলাস পিরামল (D) গ্লাক্সো ইন্ডিয়া
192. "In other rooms, other wonders" বইটির লেখক হলেন
(A) মহাসিন হাসিদ (B) নাদিম আসলাম (C) ড্যানিয়েল মইনুদ্দীন (D) মহম্মদ হানিফ
193. কেন্দ্রীয় সরকার 2009-10 সালে বিলম্বিকরণের মাধ্যমে _____ কোটি টাকা সংগ্রহের লক্ষ্য ধার্য করেছে।
(A) 1120 (B) 1125 (C) 1130 (D) 1150
194. ভারতীয় সংবিধানের 109তম সংশোধনটি _____ এর সঙ্গে সম্পর্কিত।
(A) রাষ্ট্রপতির ক্ষমতা (B) ভোটার বয়স (C) তপসিলী জাতি ও জনজাতিদের সংরক্ষণ (D) সরকারী ভাষা

195. ভারত কার সহযোগিতায় RISAT-2 স্যাটেলাইট তৈরী করেছে
(A) মার্কিন যুক্তরাষ্ট্র (B) রাশিয়া (C) ফ্রান্স (D) ইসরায়েল
196. চীন সম্প্রতি যে টাইফুনের শিকার হয়েছে
(A) মোরাকট (B) লুংওয়াং (C) যুকং (D) রাশিয়া
197. ভারত _____ রাষ্ট্র হিসাবে পরমাণু শক্তিচালিত সাবমেরিন তৈরী করেছে।
(A) পঞ্চম (B) ষষ্ঠ (C) সপ্তম (D) অষ্টম
198. কে কলকাতা 'ভারতসভা' (ইন্ডিয়ান অ্যাসোসিয়েশন) স্থাপন করেছিলেন ?
(A) ডব্লিউ.সি.ব্যানার্জি (B) এস.এন.ব্যানার্জি (C) সুভাষচন্দ্র বসু (D) চিত্তরঞ্জন দাশ

WBCS 2010 Preliminary Question Paper
By - Careerbangla.In

Career
বাংলা.in

Google News-এ
Follow করুন



আমাদের টেলিগ্রাম
গ্রুপে যুক্ত হন

